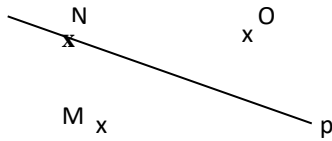
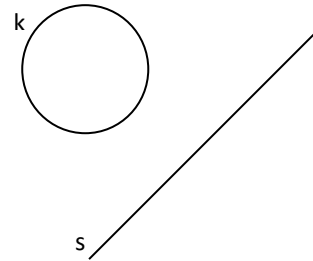


ZRCALJENJE (poglavje PRESLIKAVE)

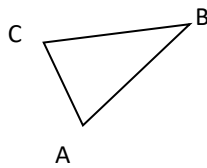
1. Prezrcali točke M, N, O čez premico p v točke M', N', O'.



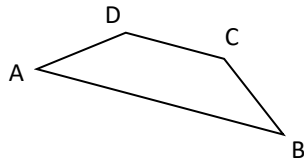
2. Prezrcali narisano krožnico k čez premico s.



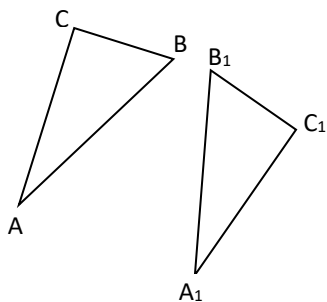
3. Trikotnik ABC prezrcali čez nosilko AC stranice trikotnika v trikotnik A'B'C' (namig: rešena 2. naloga na strani 92).



4. Narisani lik (trapez) ABCD prezrcali čez premico, ki je pravokotna na osnovnico AB in gre skozi oglišče A.



5. Trikotnik ABC smo prezrcalili čez premico s v trikotnik A₁B₁C₁. Z geotrikotnikom nariši zrcalno os s.



6. Nariši simetrali dveh poljubnih sokotov (namig: stran 109).

7. Naštej vse osno somerne cifre (števke) in velike tiskane črke.

DOMAČA NALOGA: Prisluhni, mogoče si ti naslednji Tevž ali Marko oz. naslednja Ema. 😊

»Matematika je kot družabne igre, določiš pravila, po katerih igraš«

<https://val202.rtv slo.si/2019/08/frekvenca-x-162/>