

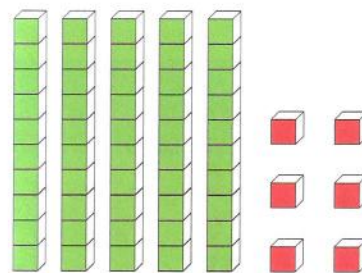
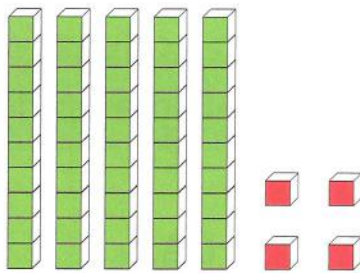
VEČ ALI MANJ?

1. Primerjaj.



$$42 >$$

$$33$$



$$54 <$$

$$56$$

2. Kdo je višji?

98 cm

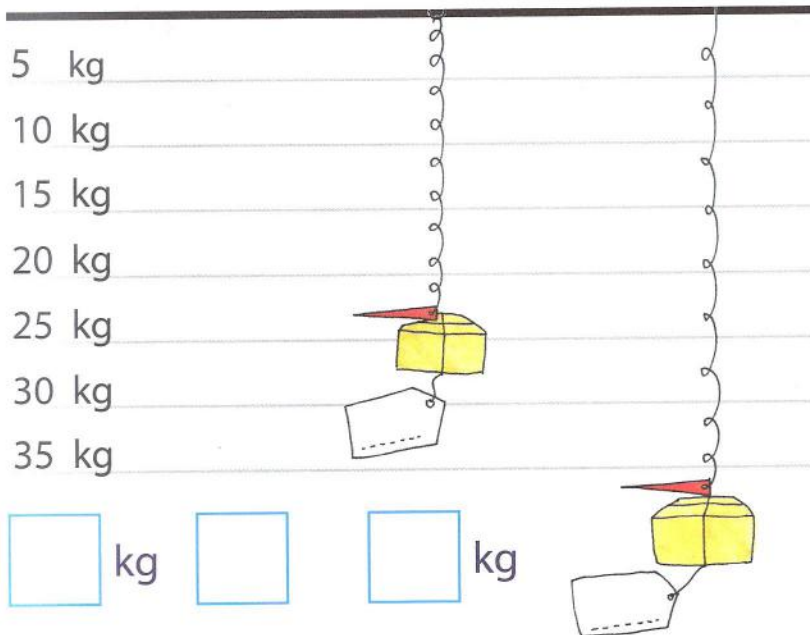


88 cm



$$\square \text{ cm} > \square \text{ cm}$$

Kaj je težje?



3. Ali imamo dovolj?



Imamo:	Želimo kupiti:	Ali imamo dovolj?
 _____ EUR	 45 eur	DA. NE.
 _____ EUR	 98 eur	DA. NE.
 _____ EUR	 34 eur	DA. NE.
 _____ EUR	 75 eur	DA. NE.

4. Obkroži večje število.

15 23

40 37

45 54

97 98

5. V prazne kvadratke vpiši manjša števila.

15

40

99

6. V prazne kvadratke vpiši večja števila.

70

49

88

7. Vstavi znak $>$, $<$ ali $=$.

29 39

75 57

9 90

40 37

69 91

70 69

100 10

34 34

58 78

IZZIV

4 7 8 9

Za vsako število
uporabi dve različni
števk.

Iz obarvanih števk sestavi števila, ki so večja od 80.


9 8 8 9 9 7 9 4 8 4 8 7



8. Ugani moje skrivno število.

Igro igrajte v parih. En učenec naj si izbere eno število do 100 in si ga zapiše na listek (soigralec tega ne sme videti). Drugi učenec mora uganiti izbrano število svojega sošolca, tako da ga sprašuje o lastnostih skritega števila, npr. *Ali je tvoje število večje od 20? Ali je tvoje število manjše od 62? ...*

Števila, ki po vprašanjih izpadajo, učenec pokriva z žetoni ali s kakšnimi drugimi predmeti. Igra se zaključi, ko uganemo nasprotnikovo število.







REŠUJEM PROBLEME



Kupila sem 32 , 28 , 31  in 9 .










Kupil sem 24 , 31 , 40  in 22 .



Kupil sem 8 , 22 , 32  in 17 .

1. Izpolni tabelo.

Kdo je kupil največ vrtnic? _____

Kdo je kupil najmanj narcis? _____

Koliko vijolic je kupil ? _____

Koliko marjetic je kupila ? _____

2. a) Miha je naključno razrezal stotični kvadrat, vendar je pozabil vpisati nekatera števila. Pomagaj mu in vpiši števila v prazna polja.

	37	38
56		

47			
			60
		69	

b) Nina je stotični kvadrat razrezala nekoliko drugače, a tudi njej manjkajo nekatera števila. Pomagaj ji in vpiši ustrezna števila.

32			
		54	

	46		
		67	
			79

	27	
		38

		73	

		50

21		

3. Katero število sem?

Sem večji od 22 in manjši od 40. Imam enako desetico kot enic.

34 22 44 31 33

Sem manjši od 69 in večji od 46. Imam 6 enic.

46 66 76 62

Sem večji od 78 in manjši od 100. Imam 1 desetico več kot imam enic.

87 100 89 76 98

Sestavi svoje navodilo za podobno nalogo. Potem naj nalogo reši tvoj sošolec, ti pa njegovo.

